


Tekstopgaven optellen - getallengebied tot 10

Lees de opgave. Vul de oplossing in.
Een voorbeeld:

Dit zijn 3 .

Sabine plukt er 2 bij.
Hoeveel zijn er in totaal?

$$\underline{3} + \underline{2} = \underline{5}$$

Dit zijn 4 .


Sabine plukt er 2 bij.
Hoeveel zijn er in totaal?

$$\underline{\quad} + \underline{\quad} = \underline{\quad}$$

Dit zijn 6 .


Sabine plukt er 3 bij.
Hoeveel zijn er in totaal?

$$\underline{\quad} + \underline{\quad} = \underline{\quad}$$

Dit zijn 3 .

Sabine plukt er 4 bij.
Hoeveel zijn er in totaal?

$$\underline{\quad} + \underline{\quad} = \underline{\quad}$$

Dit zijn 5 .


Sabine plukt er 2 bij.
Hoeveel zijn er in totaal?

$$\underline{\quad} + \underline{\quad} = \underline{\quad}$$

Dit zijn 8 .

Sabine plukt er 2 bij.
Hoeveel zijn er in totaal?

$$\underline{\quad} + \underline{\quad} = \underline{\quad}$$

Dit zijn 3 .

Sabine plukt er 5 bij.
Hoeveel zijn er in totaal?

$$\underline{\quad} + \underline{\quad} = \underline{\quad}$$

Dit zijn 2 .

Sabine plukt er 2 bij.
Hoeveel zijn er in totaal?

$$\underline{\quad} + \underline{\quad} = \underline{\quad}$$

Dit zijn 7 .

Sabine plukt er 3 bij.
Hoeveel zijn er in totaal?

$$\underline{\quad} + \underline{\quad} = \underline{\quad}$$