

MINI-MULTIPLICATIONS

Chacun le voit autrement.

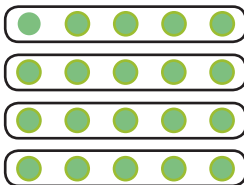


Anne regarde les muffins et voit 5 rangées de 4
 Jean voit 4 rangées de 5 muffins et
 David qui les regarde également voit 2 x 10 muffins.

1.


Inscris les différentes opérations et entoure les points selon tes opérations.


Exemple :




$4 \times 5 = 20$

$5+5+5+5=20$







2.

Essaie de trouver les opérations pour les images suivantes.

