






Où est passé le temps ?





Regarde les montres de gauche et lis le texte inscrit à côté de chaque montre. Calcule le temps passé et dessine l'heure actuelle sur la montre de droite.





A 7 heures Anna commence à prendre son petit-déjeuner. Il dure en général une demi-heure.



L'école commence à 8 heures et demi et 5 heures après Anna est à nouveau à la maison.



A 15 heures Anna commence avec ses devoirs. 2 heures se déroulent jusqu'à ce qu'elle a terminé.



A 20 heures Anna va au lit. Après 10 heures de sommeil elle est à nouveau en pleine forme.

