

# Afin que notre corps fonctionne

## Nomme les fonctions des organes :

Il pompe le sang à travers le corps et lui fournit  
 coeur : l'oxygène et les nutriments.

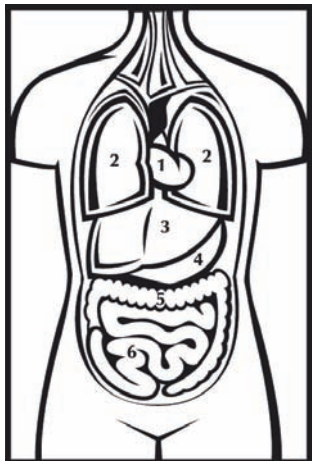

foie : Il purifie notre corps.

estomac : L'estomac digère la nourriture.

intestin : Il poursuit la digestion et absorbe les nutriments.

reins : Ils font office de filtre et purifie le sang.

poumons : Ils respirent l'air frais et enrichissent le sang en oxygène.



## Regarde le schéma et complète les différents organes :

1 = coeur


2 = poumons (2 poumons, gauche et droit)

3 = foie

4 = estomac

5 = gros intestin

6 = intestin grêle



Place ton index et majeur sur l'artère de la gorge. Compte les battements de ton coeur pendant 1 minute. Reporte les valeurs :

au repos : \_\_\_\_\_

en mouvement : \_\_\_\_\_

