















Calculer avec des images

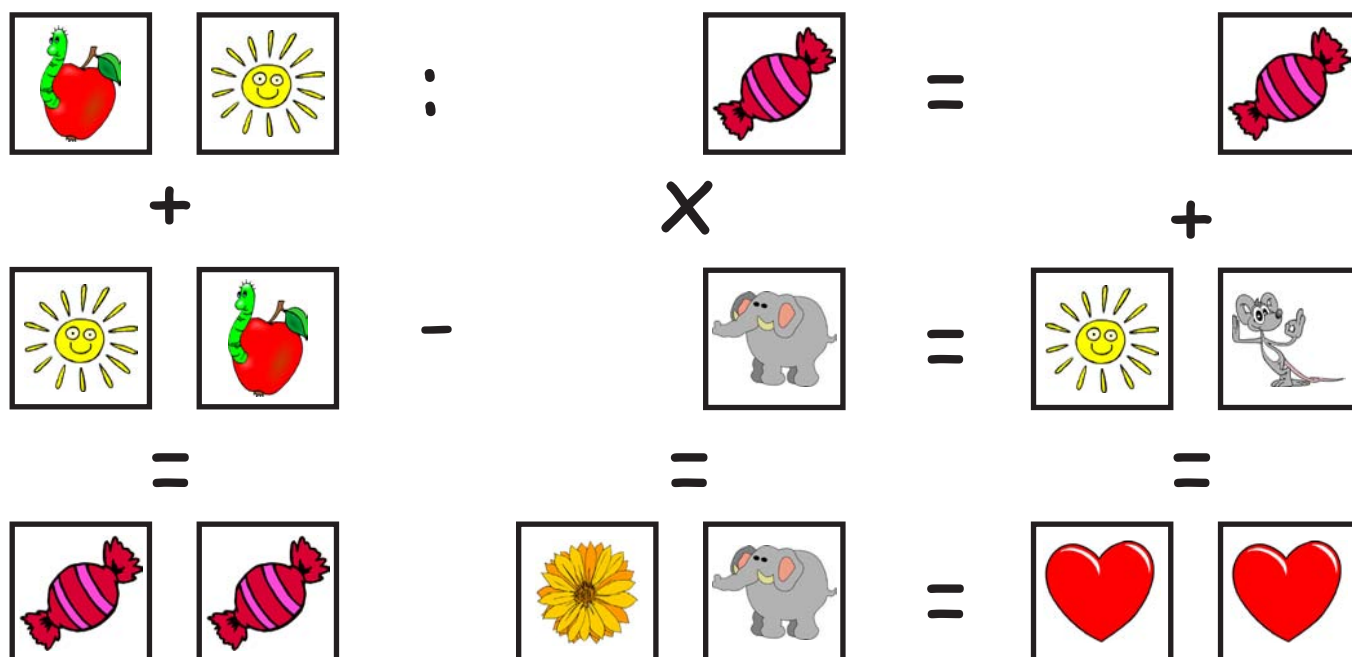
Essaie de résoudre les opérations !
Chaque image équivaut à un chiffre !

		:		=		
-			X		+	
		+		=		
=			=		=	
				=		

Inscris les résultats dans les cases :

<input type="text" value="6"/>	<input type="text" value="3"/>	:	<input type="text" value="7"/>	=	<input type="text" value="9"/>	
-			X		+	
<input type="text" value="2"/>	<input type="text" value="3"/>	+	<input type="text" value="1"/>	=	<input type="text" value="3"/>	<input type="text" value="6"/>
=			=		=	
<input type="text" value="4"/>	<input type="text" value="0"/>		<input type="text" value="9"/>	=	<input type="text" value="4"/>	<input type="text" value="5"/>

Rechnen mit Bildern...



Trage deine Lösung in die Kästchen ein:

