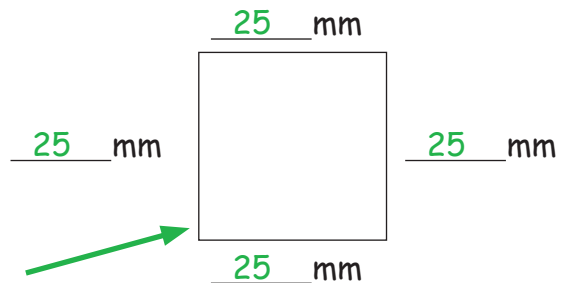
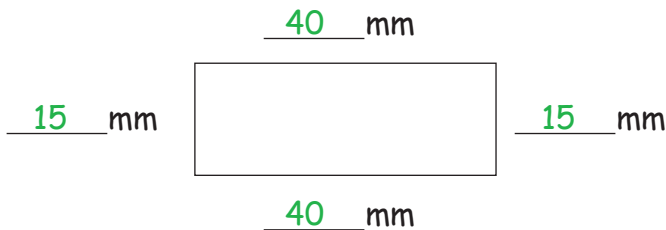


## Mesurer les carrés



### 1. Le carré :

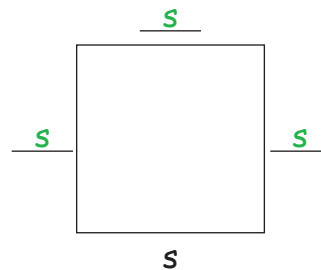
- Mesure les côtés et inscris les résultats.
- Indique les angles droits.
- Lequel de ces 2 dessins est un carré ?



carré !

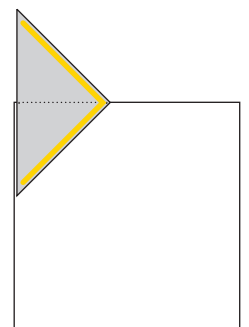
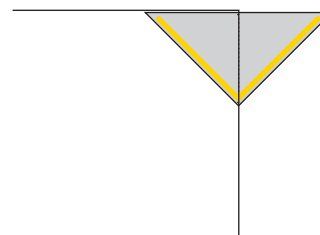


### 2. Côtés parallèles :

Les côtés opposés d'un carré sont parallèles 2 à 2. Indique-les en marquant un „s”.



### 3. Avec une équerre, dessine un carré. Reproduis-le de la même manière que l'exemple !

Attention : le carré de l'exemple n'est pas à la bonne dimension.  $s = 30$  mm



### 4. Termine les carrés ci-dessous :

