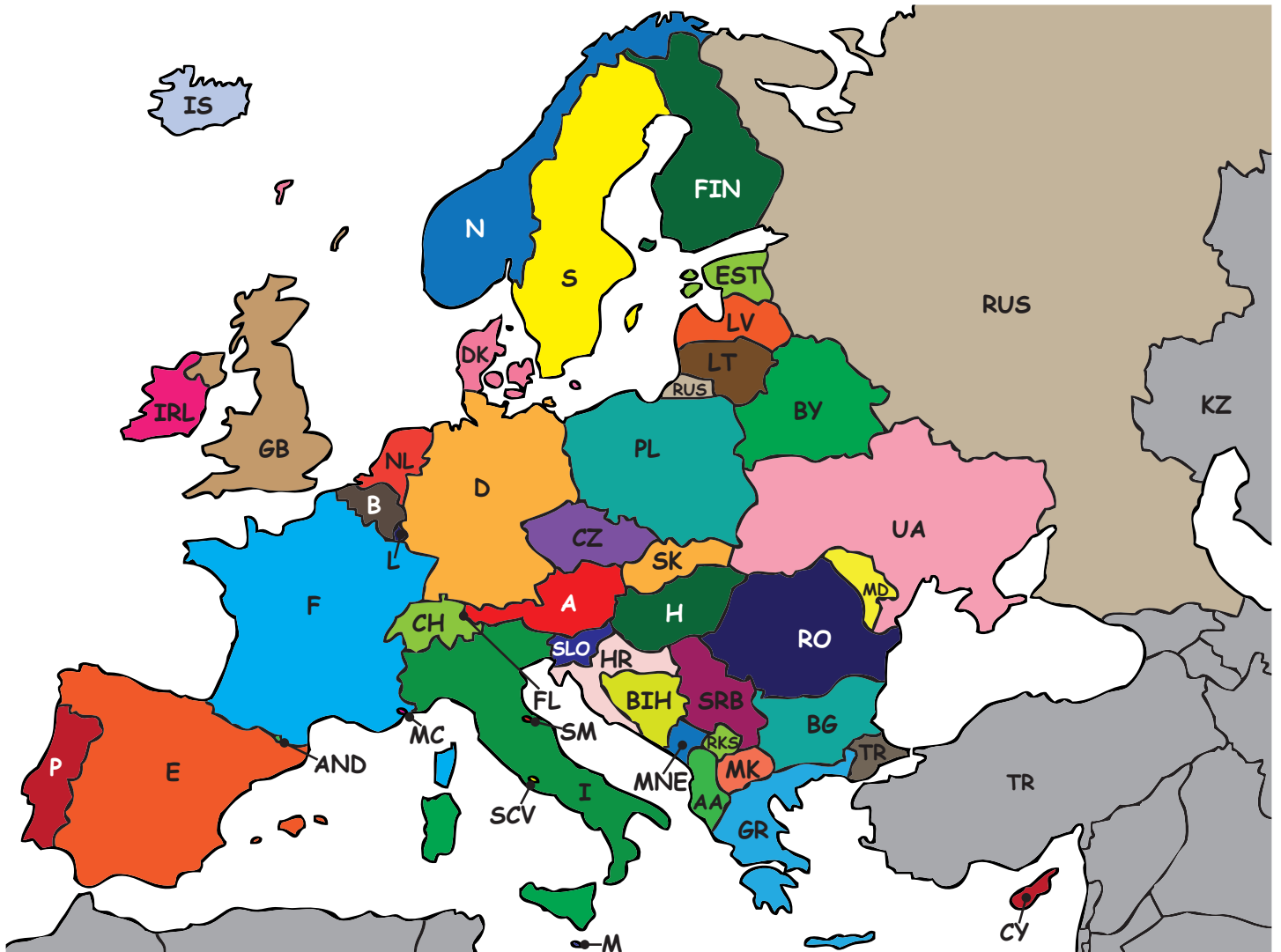










NOTRE CONTINENT - EUROPE











Ci-dessous tu peux voir un tableau avec tous les pays d'Europe. Entre parenthèses nous avons également indiqué les plaques d'immatriculation. Reporte-les sur la carte. Tu peux t'aider d'un Atlas.

Pays	Capitale	Pays	Capitale	Pays	Capitale
Albanie (AA)	Tirana	Kosovo (RKS)	Priština	Roumanie (RO)	Bucarest
Andorre (AND)	Andorre la Vieille	Croatien (HR)	Zagreb	Russie (RUS)	Moscou
Belgique (B)	Bruxelles	Lettonie (LV)	Riga	Saint Marin (SM)	Saint Marin
Bosnie-Herzégovine (BIH)	Sarajevo	Liechtenstein (FL)	Vaduz	Suède (S)	Stockholm
Bulgarie (BG)	Sofia	Lituanie (LT)	Vilnius	Suisse (CH)	Berne
Danemark (DK)	Copenhague	Luxembourg (L)	Luxembourg	Serbie (SRB)	Belgrade
Allemagne (D)	Berlin	Malte (M)	La Vallette	Slovaquie (SK)	Bratislava
Estonie (EST)	Tallinn	Macédoine (MK)	Skopje	Slovénie (SLO)	Ljubljana
Finlande (FIN)	Helsinki	Moldavie (MD)	Chișinău	Espagne (E)	Madrid
France (F)	Paris	Monaco (MC)	Monaco	République Tchèque (CZ)	Prague
Grèce (GR)	Athènes	Monténégro (MNE)	Podgorica	Turquie (TR)	Ankara
Royaume-Uni (GB)	Londres	Pays-Bas (NL)	Amsterdam	Ukraine (UA)	Kiev
Irlande (IRL)	Dublin	Norvège (N)	Oslo	Hongrie (H)	Budapest
Islande (IS)	Reykjavík	Autriche (A)	Vienne	Vatican (SCV)	—
Italie (I)	Rome	Pologne (PL)	Varsovie	Biélorussie (BY)	Minsk
Kazakhstan (KZ)	Astana	Portugal (P)	Lisbonne	Chypre (CY)	Nicosie

Les solutions ainsi + de 1000 feuilles pédagogiques différentes sont à télécharger gratuitement sur notre site : www.aduis.com. Jetez-y un coup d'œil !

		<p>Vérifie avec une carte économique :</p> <p><i>Vrai ou Faux ?</i></p> <p>Dans les alentours de Berlin on plante du riz. F</p> <p>Berlin n'est pas une ville mondiale. F</p> <p>A l'ouest de Berlin on trouve du pétrole. F</p> <p>Jusqu' V</p>
<p>Pays : Allemagne</p>	<p>Capitale : Berlin</p>	
		<p>Vérifie avec une carte de l'Autriche :</p> <p><i>Vrai ou Faux ?</i></p> <p>Vienne est située sur le Danube. V</p> <p>Graz est au nord de Vienne . F</p> <p>Vienne est en bord de mer. F</p>
<p>Pays : Autriche</p>	<p>Capitale : Vienne</p>	
		<p>Utilise une carte de ton choix.</p> <p>Quelles informations trouves-tu sur Berne ?</p>
<p>Pays : Suisse</p>	<p>Capitale : Berne</p>	
		<p>Utilise une carte économique.</p> <p>Que trouves-tu sur Rome ?</p>
<p>Pays : Italie</p>	<p>Capitale : Rome</p>	

		<p>Utilise une carte de ton choix. Que trouves-tu sur Amsterdam ?</p> <hr/> <hr/> <hr/> <hr/> <hr/> <hr/> <hr/> <hr/>
<p>Pays : <i>Pays-Bas</i></p>	<p>Capitale : Amsterdam</p>	
		<p>Utilises une carte économique. Que peux-tu trouver sur Bruxelles ?</p> <hr/> <hr/> <hr/> <hr/> <hr/> <hr/> <hr/> <hr/>
<p>Pays : <i>Belgique</i></p>	<p>Capitale : Bruxelles</p>	
		<p>Utilise une carte de ton choix. Que trouves-tu sur Luxembourg ?</p> <hr/> <hr/> <hr/> <hr/> <hr/> <hr/> <hr/> <hr/>
<p>Pays : <i>Luxembourg</i></p>	<p>Capitale : Luxembourg</p>	
		<p>Utilise une carte économique. Quelles informations as-tu sur Paris Paris ?</p> <hr/> <hr/> <hr/> <hr/> <hr/> <hr/> <hr/> <hr/>
<p>Pays : <i>France</i></p>	<p>Capitale : Paris</p>	