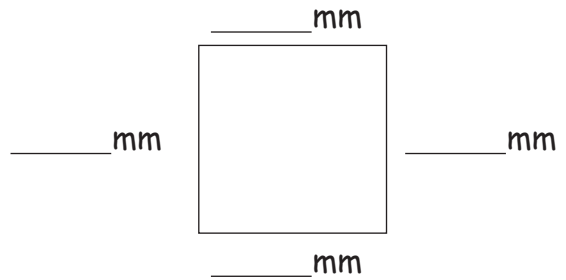
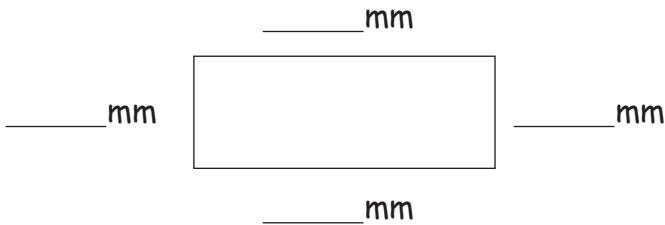


Metten van kwadraten (vierkanten)



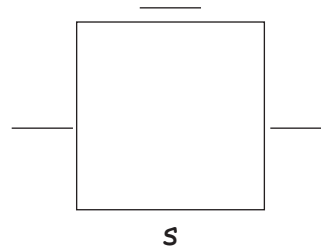
1. Het kwadraat

- a.) Meet de zijden op en vul de lengte in.
- b.) Teken de rechte hoeken in.
- c.) Welke van de 2 vierhoeken, noemt men een vierkant?



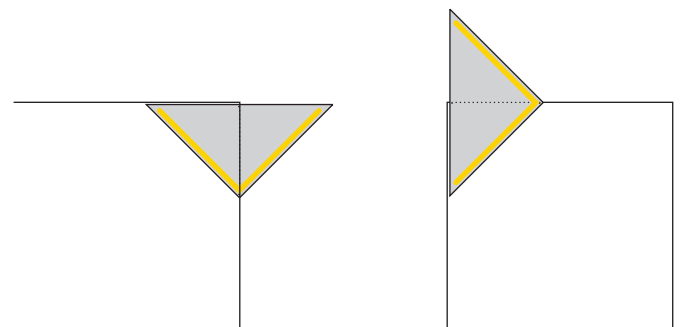


2. Parallele zijden:

Telkens zijn twee zijden aan elkaar parallel.
Kenmerk ze met een „s”.



**3. Teken met je Geo-driehoek een vierkant.
Doe dit precies zo, zoals het hier afgebeeld is!**

De driehoek is verkleind afgebeeld.
s = 30 mm



4. Maak (teken) de volgende vierkanten af:

