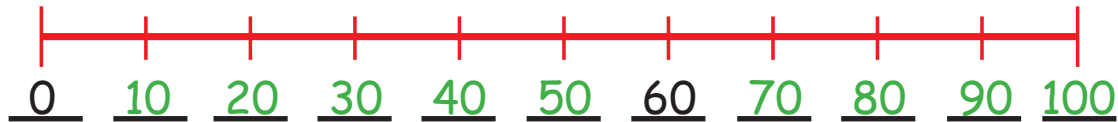


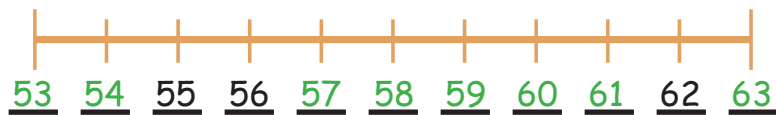
Invullen op de getallenlijn

1. Vul de getallen op de getallenlijn aan.

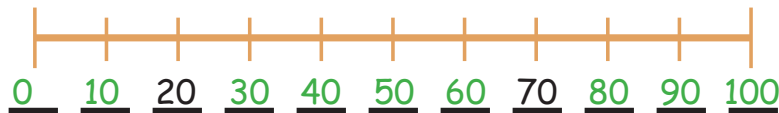


Wordt deze getallenlijn in stappen van honderd, tientallen of eenheden geteld?

A: Hij wordt in stappen van tien geteld.



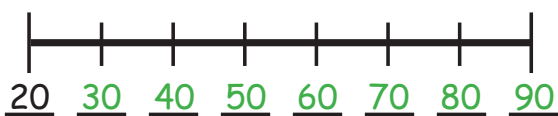
2. Vul de ontbrekende getallen in!



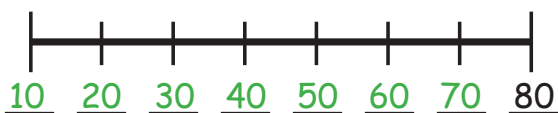
3. Tel in eenheden verder!



4. Tel in eenheden terug!



5. Tel in stappen van tien vooruit!



6. Tel in stappen van tien terug!