


Het getal 6 - optellen

In elke cirkel moeten in totaal 6 punten zijn afgebeeld. Kleur het aantal ontbrekende punten met groen in de cirkel!



Vul in de lege vakjes de juiste buurgetallen in.


4	5	6
---	---	---

6	.	.
---	---	---

5	.	.
---	---	---


.	5	.
---	---	---

Zet de getallen in de juiste volgorde.



Maak de sommen af, door het juiste getal in de vakjes in te vullen.

$$4 + \square = 6$$



$$3 + \square = 6$$



$$1 + \square = 6$$



$$5 + \square = 6$$



$$2 + \square = 6$$



$$6 + \square = 6$$



De oplossing en zeer veel andere werkbladen om gratis te downloaden:

www.aduis.nl. Neemt u een kijkje.