
















## Aftrekken - eenvoudige sommen en tekstopgaven

Los de sommen op! Als een klein hulpmiddel kun je de kleine aapjes gebruiken.

	$1 - 0 = \underline{1}$		$9 - 1 = \underline{8}$
	$4 - 3 = \underline{1}$		$6 - 2 = \underline{4}$
	$5 - 3 = \underline{2}$		$7 - 2 = \underline{5}$
	$9 - 7 = \underline{2}$		$3 - 0 = \underline{3}$
	$6 - 1 = \underline{5}$		$9 - 4 = \underline{5}$
	$9 - 6 = \underline{3}$		$5 - 4 = \underline{1}$
	$8 - 7 = \underline{1}$		$7 - 3 = \underline{4}$

Schrijf het antwoord op de lijn!

a) Christina heeft vandaag zes bananen in de winkel gekocht.  Morgen neemt ze 2 bananen mee naar school. Hoeveel bananen heeft ze dan nog thuis?

Morgen heeft ze thuis nog 4 bananen.

b) Floris heeft voor oudejaarsnacht 10 babyraketten gekocht. Hij heeft 5 stuks op 30 december afgestoken. Hoeveel stuks heeft hij in de oudejaarsnacht over?




Floris heeft in oudejaarsnacht nog 5 babyraketten over.

c) Maria heeft op vakantie 5 prachtige armbanden gekocht. Toen ze thuis kwam, wilde ze een ervan aan haar beste vriendin cadeau geven en een aan haar zus. Hoeveel armbanden heeft ze zelf nog over?



Maria heeft nog 3 armbanden over.

d) André heeft in de tuin 8 appels geplukt. 3 Van de appels zijn helaas door wormen aangevreten. Hoeveel appel houdt André nog over om zelf op te eten?



Hij nog steeds 5 appels meer te eten.