















BEHEKSTE CIJFERS

Heks Lilly heeft de cijfers in symbolen omgetoverd. Zoek uit, welke cijfers (van 1 tot en met 9) voor welk symbool moeten staan, zodat het de aangegeven sommen in de rijen en kolommen oplevert? Dezelfde symbolen betekenen dezelfde cijfers.



-  = 1
-  = 2
-  = 3
-  = 4
-  = 5
-  = 6
-  = 7
-  = 8
-  = 9

					24
					26
					15
					22
					30
25	29	19	27	17	