



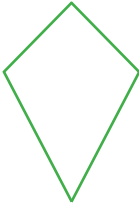




## Eigenschaften von Vierecken

Schneide die Vierecke auf der zweiten Seite aus und versuche damit die Tabelle zu vervollständigen! Als Hilfe findest du im Kästchen die Eigenschaften, die du nur noch richtig einordnen musst!

Art	Skizze	Anzahl der Symmetrieachsen	Eigenschaften
Quadrat		4	Alle vier Seiten sind gleich lang.
Rechteck		2	Es gibt 4 rechte Winkel.
Parallelogramm		0	Gegenüberliegende Seiten sind parallel.
Raute		2	Gegenüberliegende Winkel sind gleich groß.
Deltoid		1	Jeweils 2 Seiten sind gleich lang.
Trapez		0	Ein Paar gegenüberliegende Seiten ist parallel.
unregelmäßiges Viereck		0	Es gibt keine Symmetrieachse(n).

Alle vier Seiten sind gleich lang.

Es gibt keine Symmetrieachse(n).

Es gibt 4 rechte Winkel.

Ein Paar gegenüberliegende Seiten ist parallel.

Jeweils zwei Seiten sind gleich lang.

Gegenüberliegende Winkel sind gleich groß.

Gegenüberliegende Seiten sind parallel.

