




Hoe veel moet weg?

* Haal steeds 3 stuks weg. Zie het voorbeeld.

a) 
 $7 - 3 = 4$


b) 
 $9 - 3 = 6$


* Haal steeds 4 stuks weg.


a) 
 $6 - 4 = 2$


b) 
 $8 - 4 = 4$

* Maak de som af en teken het juiste aantal punten op de lijn.

a) 
 $5 - 2 = 3$

b) 
 $9 - 5 = 4$

c) 
 $4 - 3 = 1$

d) 
 $7 - 2 = 5$

* Bereken en vul de ontbrekende getallen in.



a) $3 - 1 = 2$

g) $4 - 4 = 0$

b) $8 - 3 = 5$

h) $5 - 2 = 3$

c) $5 - 4 = 1$

i) $8 - 2 = 6$

d) $9 - 6 = 3$

j) $7 - 5 = 2$

e) $4 - 2 = 2$

k) $8 - 4 = 4$

f) $7 - 3 = 4$

l) $9 - 0 = 9$