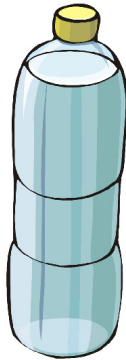


Mehr oder weniger als 1 Liter

1. Mehr oder weniger als 1 Liter?



weniger




mehr



weniger



mehr



mehr



weniger



mehr




weniger



mehr





weniger



mehr

2. Kreise ein, wo du glaubst, dass genau 1 Liter drinnen ist. Überprüfe es nachher!



3. Miss nun selbst den Inhalt einiger Behälter!