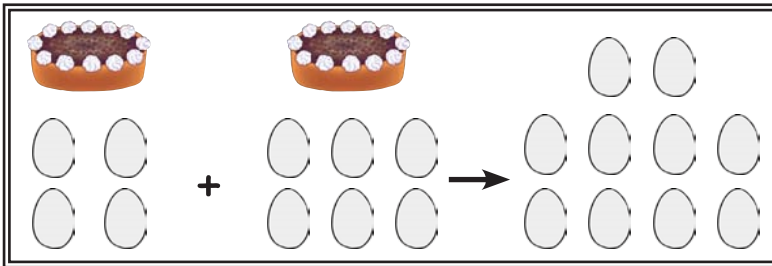


## Mijn rekenverhalen

Teken bij de rekenopgaven de rekenverhalen.

1 Lisa bakt twee taarten. Voor de ene heeft ze 4 eieren, voor de andere 6 eieren nodig. Hoeveel eieren heeft ze in totaal verwerkt?



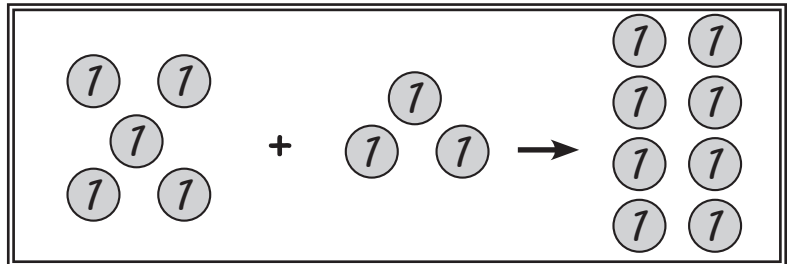
R:  $4 + 6 = 10$

A: Ze heeft 10 eieren verwerkt

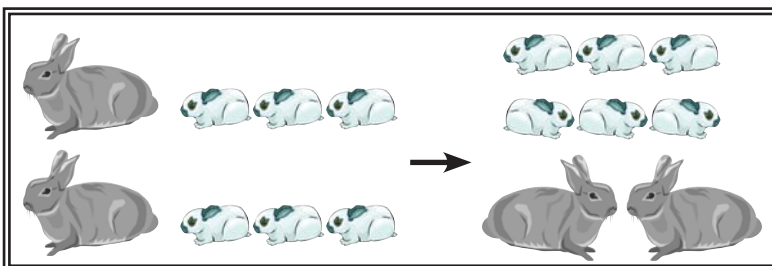
2 Laura heeft € 5. Van haar tante krijgt ze € 3 euro cadeau. Hoeveel geld heeft ze nu?

R:  $5 + 3 = 8$

A: Ze heeft nu € 8



3 Felix heeft 2 konijnen. Elke krijgt 3 jongen. Hoeveel konijnen heeft Felix nu?



R:  $2 + 6 = 8$

A: Felix heeft nu 8 konijnen

4 Daniël schildert 8 schilderijen. 3 ervan geeft hij weg. Hoeveel schilderijen heeft hij nog?

R:  $8 - 3 = 5$

A: Hij heeft nog 5 schilderijen

