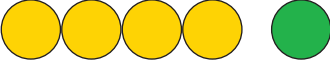





















Rechnen im Zahlenraum bis 5









1. Rechne folgende Aufgaben. Nimm deine Finger zur Hilfe.

 $4 + 1 = \underline{5}$	 $2 + 3 = \underline{5}$	 $3 + 1 = \underline{4}$	 $1 + 2 = \underline{3}$
 $2 + 2 = \underline{4}$	 $1 + 4 = \underline{5}$	 $3 + 2 = \underline{5}$	 $0 + 4 = \underline{4}$
 $1 + 3 = \underline{4}$	 $3 + 0 = \underline{3}$	 $0 + 5 = \underline{5}$	 $2 + 1 = \underline{3}$

2. Streiche die Kästchen, die du wegzählst, durch und löse dann die Aufgaben:

 $4 - 1 = \underline{3}$	 $5 - 2 = \underline{3}$	 $3 - 1 = \underline{2}$	 $4 - 3 = \underline{1}$
 $5 - 3 = \underline{2}$	 $4 - 2 = \underline{2}$	 $5 - 1 = \underline{4}$	 $5 - 4 = \underline{1}$

3. Setze die fehlenden Zahlen ein:

 $4 - \underline{2} = 2$	 $4 - \underline{1} = 3$	 $5 - \underline{3} = 2$	 $5 - \underline{1} = 4$
 $5 - \underline{4} = 1$	 $4 - \underline{3} = 1$	 $3 - \underline{1} = 2$	 $5 - \underline{2} = 3$

4. Zahlen ergänzen:

Im oberen Teil der Tabelle steht das Ergebnis. Ergänze die unten stehenden Zahlen immer auf das Ergebnis.

2	
2	0
0	2
1	1

4	
3	1
1	3
4	0
2	2

3	
0	3
2	1
1	2
3	0

5	
1	4
3	2
2	3
4	1