





Rechnen mit einem Schaubild - Zahlenraum 10

8				
7				
6				
5				
4				
3				
2				
1				
				

Beantworte die Fragen. Sieh dir dazu das Schaubild genau an.

Wieviel mehr Käfer als Schmetterlinge?

6

Wieviel mehr Glühwürmchen als Raupen?

1

Wieviele Schmetterlinge und Glühwürmchen insgesamt?

7

Wieviel weniger Schmetterlinge als Glühwürmchen?

3

Wieviel weniger Raupen als Käfer?

4

Wieviele Glühwürmchen und Raupen insgesamt?

9

Wieviel mehr Raupen als Schmetterlinge?

2

Wieviel weniger Glühwürmchen als Käfer?

3

Wieviele Schmetterlinge und Raupen insgesamt?

6