

Spelletjes

1. Welk nummer ontbreekt?

Welk getal moet op de lege plek staan?

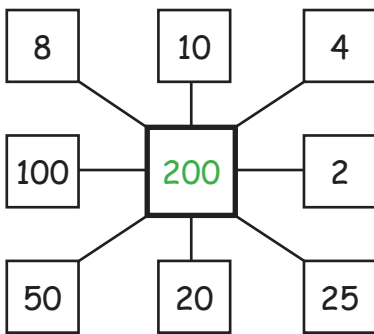
$$6 + 44 \dots \quad 5 + 33 \dots$$

$$4 + 24 \dots \quad 9 + \underline{89} \dots$$

Oplossing:

$$6*6+8 \quad 5*5+8$$

$$4*4+8 \quad 9*9+8$$



Oplossing:

Het getal in het midden is het product van de tegenovergelegen getallen.

3. Code versleuteling

Het codenummer versleutelt het wachtwoord met een eenvoudige truc. Kun je achter de truc komen? Vul de ontbrekende geheime nummers in!

$$135 \longrightarrow 975$$

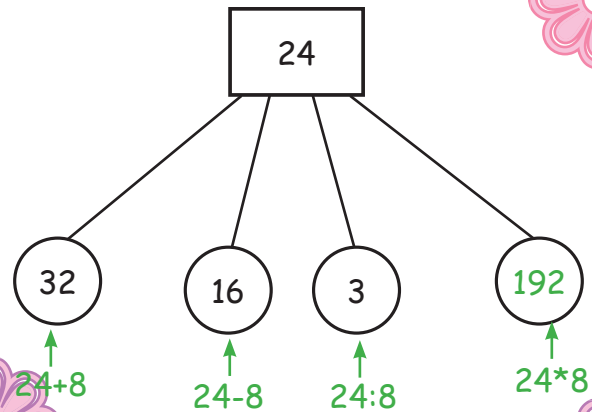
$$684 \longrightarrow 426$$

$$341 \longrightarrow 769$$

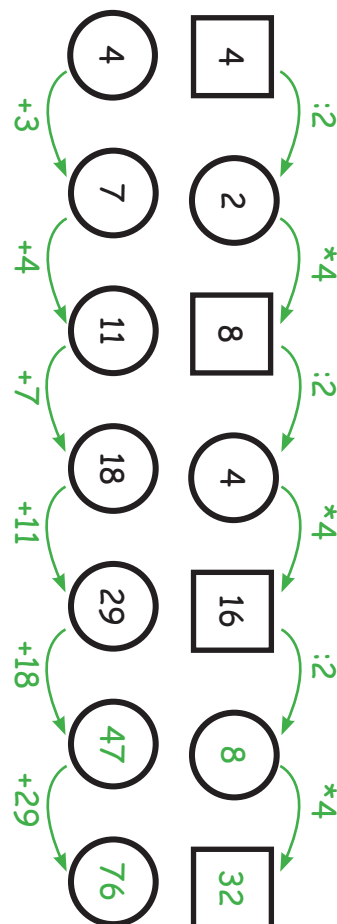
$$\underline{792} \longrightarrow 318$$

$$\underline{263} \longrightarrow 847$$

Oplossing:
Elk cijfer van het codenummer wordt van 10 afgetrokken.



2.



Vul de getallenreeksen in!

Getallenreeksen