

Tijdseenheden: uren - minuten

1. Vergelijk uren en minuten:

Peter heeft 1 uur nodig om met zijn fiets van zijn huis naar zijn oma te fietsen.

Karin heeft voor dezelfde afstand maar 60 minuten nodig.

Wie van de twee heeft langer nodig voor de afstand? Niemand. Ze hebben beiden even lang nodig.

2. Hoeveel minuten heeft een uur?

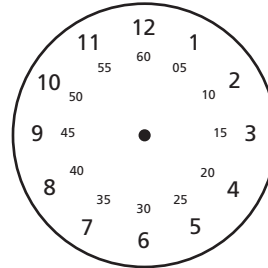
Een uur heeft 60 minuten.

Een kwartier heeft 15 minuten.


Drie kwartier heeft 45 minuten.

Een half uur heeft 30 minuten.

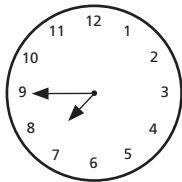
Anderhalf uur heeft 90 minuten.



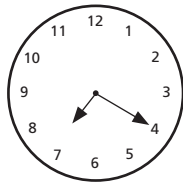
3. Hoeveel minuten zijn er telkens sinds 19 uur vergaan? Schrijf de tijd op.




19.10 uur




19.45 uur



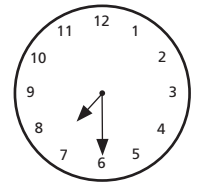
19.20 uur



19.55 uur



19.05 uur

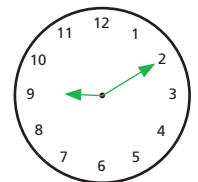
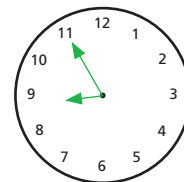
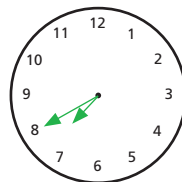
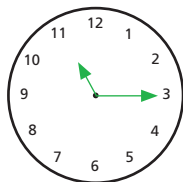
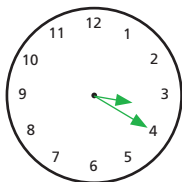
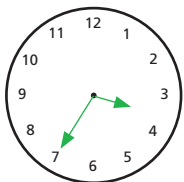


19.30 uur

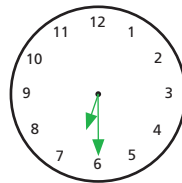
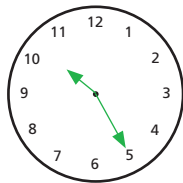
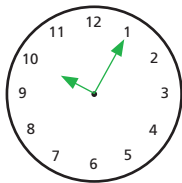
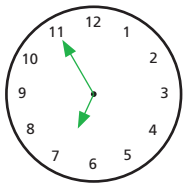
4. De radio heeft een digitale display. Teken de tijdaanduidingen in de klokken in.

Voor elke juist opgeloste som krijg je één punt.

15 : 35 03 : 20 23 : 15 19 : 40 20 : 55 09 : 10



06 : 55 10 : 05 22 : 25 18 : 30



17 : 15 14 : 50 19 : 50 21 : 25

