


Übungen im Zahlenraum 10


1. Ordne die Zahlen der Reihe nach:

1	2	3	4	5	6	7	8	9	10
---	---	---	---	---	---	---	---	---	----



2. Textaufgaben:

Im Meer schwimmen 4 Haie und 5 Delphine.



4	+	5	=	9
---	---	---	---	---

Auf dem Dach sitzen 3 Tauben und 2 Spatzen.




3	+	2	=	5
---	---	---	---	---

Im Restaurant sitzen 4 Männer und 3 Frauen.




4	+	3	=	7
---	---	---	---	---

Auf dem Teller sind 6 Burger. Marcel isst 4 davon.




6	-	4	=	2
---	---	---	---	---

Auf einer Blume sitzen 5 Marienkäfer. 3 fliegen davon.



5	-	3	=	2
---	---	---	---	---

Im Stall stehen 4 Pferde. 2 davon werden ausgeritten.



4	-	2	=	2
---	---	---	---	---

3. Mach aus den Rechnungen Textaufgaben:

1	+	7	=	8
---	---	---	---	---

8	-	3	=	5
---	---	---	---	---

9	-	5	=	4
---	---	---	---	---

2	+	4	=	6
---	---	---	---	---
