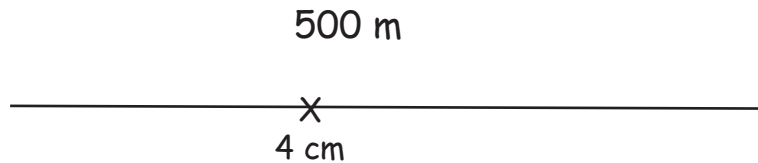



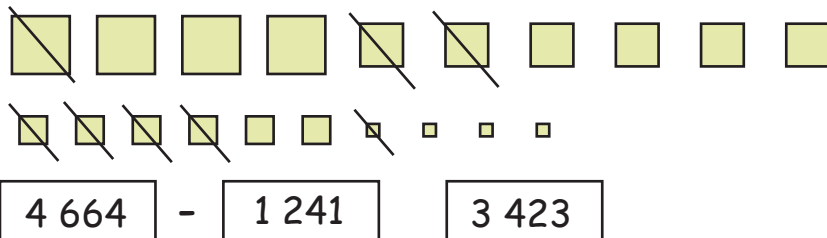
VAARDIGHEDENTEST ALLERLEI

1 De ijssalon ligt op slechts 200 meter afstand van de speeltuin. Teken de ijssalon op juiste plaats in!



2 Welke aftreksom is hier grafisch weergegeven? De grootte van de vierkanten komt overeen met de opgegeven waarde.

- 1 000
- 100
- 10
- 1



3 Weet je het juiste antwoord? Stel je de wijzerplaat van een klok voor. Het wordt met een streepje van het getal 9 naar 3 en van het getal 12 naar 6 gedeeld. Hoeveel breukdelen zijn er op de wijzerplaat ontstaan? Hoe heet 1 een dergelijk breukdeel?

4

$\frac{1}{4}$



4 Welk antwoord is juist? Schrijf ook de som op! Het rechthoekige veld van boer Vos is 5074 m² groot. Hoe lang is het grondstuk, als het veld 86 meter breed is?

5 074 m² ÷ 86 m

=

59 m

