

V AARDIGHEEDENTEST

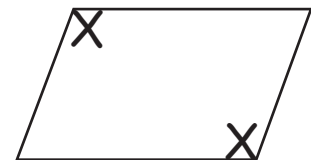
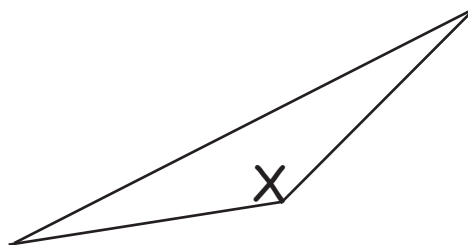
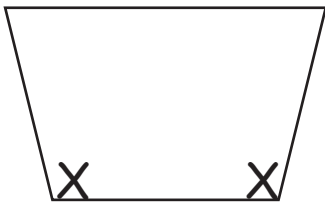
DOI ZENDEN / HOEKEN



Bedenk een getal met de volgende eigenschappen en vul ze in een leeg veld in!

Een getal tussen 4325 en 4236, dat zonder rest deelbaar is door 2	4 240
Een getal tussen 9968 en 9977, dat deelbaar is door 5 met een rest	9 969
Een getal tussen 4854 en 4866, dat deelbaar is door 2 met een rest	4 865
Een getal tussen 7165 en 7183, dat zonder rest deelbaar is door 5	7 170

Enkele van de hoeken van deze oppervlakken zijn groter dan een rechte hoek. Zoek ze en kruis ze aan!



Rond af op duizenden en maak de ruwe schatting!

De benzinetank van een tankstation is gevuld met 73.000 liter brandstof. Op maandag wordt 2667 l, op dinsdag 7293 l, op woensdag 5270 l en op donderdag 6909 l getankt.

Hoeveel liter brandstof blijft er ongeveer over?

Er blijft nog ongeveer 51 000 liter brandstof over.