






Waar blijft de tijd?





Kijk naar de klokken en lees de eraan geschreven teksten door. Bereken daarna hoeveel tijd verstreken is en teken de juiste tijden in de klokken.





Om 7 uur begint Anna aan haar ontbijt. Daarvoor heeft zij een half uur nodig.



Om half negen begint de school. Na 5 uur gaat ze weer naar huis.



Anna begint om 3 uur met haar huiswerk. Als ze klaar is, zijn 2 uur verstreken.



Om 8 uur gaat Anna slapen. Na 10 uur slaap is ze weer fit.

