


SPARFUCHS

Jan hat von seinem Taschengeld 24 € in seiner Spardose gespart.
Nun möchte er sich von diesem Geld gerne einige Spielsachen kaufen.

In einem Spielwarengeschäft sieht er viele tolle Angebote.
Zähle die beiden Spielsachen zusammen und entscheide, ob Jan genügend Geld besitzt,
um das Angebot zu kaufen.



Kreuze anschließend die richtige Antwort an.



			Ja	Nein
Angebot 1	Stofftier 12 €	Farbstifte 11 €	X	
Angebot 2	Wasserpistole 25 €	Spielkarten 3 €		
Angebot 3	Monopoly 21 €	Auto 2 €		
Angebot 4	Fussball 19 €	Wasserball 3 €		
Angebot 5	Bilderbuch 9 €	Tennisbälle 10 €		
Angebot 6	Puzzle 15 €	Lego 14 €		



Auch Cornelia findet einiges im Spielwarengeschäft spannend. Sie hat 34 € gespart.
Welche Angebote kann sie kaufen? Kreuze die richtige Antwort an.



			Ja	Nein
Angebot 1	Puppe 18 €	Puppenschuhe 12 €		
Angebot 2	Delphin 23 €	Federmäppchen 6 €		
Angebot 3	Spielkoffer 28 €	Schläger 14 €		
Angebot 4	Barbie 21 €	Kleid 14 €		
Angebot 5	Malbuch 7 €	Springseil 11 €		
Angebot 6	Stofftier 13 €	Playmobil 19 €		