

TAFELS VAN VERMENIGVULDIGING

Iedereen ziet het een beetje anders.

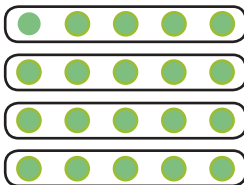


Anna kijkt naar de muffins en ziet 5 rijtjes van vier stuks.
 Jonas ziet 4 keer 5 muffins en
 David kijkt naar de muffins en ziet er 2 maal 10 stuks.

1.


Schrijf de verschillende sommen op en omcirkel daarna de punten.


Voorbeeld:




$4 \times 5 = 20$

$5+5+5+5=20$







2.

Probeer ook hier de juiste sommen te ontdekken.

